































Bridge Test 7 voor beginners

De Antwoorden

Auteur: Thijs Op het Roodt
© Bridge Office 2024

1	<table border="1" data-bbox="260 286 579 465"> <tr> <td></td> <td>74</td> </tr> <tr> <td></td> <td>86</td> </tr> <tr> <td></td> <td>AH842</td> </tr> <tr> <td></td> <td>A432</td> </tr> </table> <p>Tegen 3 Sans Atout is uw partner gestart met  8. U neemt met  aas. Wat speelt u na?</p>		74		86		AH842		A432	<p><input checked="" type="checkbox"/>  4</p> <p>De uitkomst wil zeggen dat uw partner niks heeft in . Nu speelt u  4. Een nieuwe kleur en dan speelt u de 4^e van boven. Komt u of uw partner weer aan slag, dan maakt u misschien 4  slagen.</p>
	74									
	86									
	AH842									
	A432									
2	<p>Wat is de waarde aan matchpunten voor  ?</p>	<p><input checked="" type="checkbox"/> 20</p> <p>De lage kleuren leveren u 20 matchpunten op. De hoge kleuren 30 matchpunten. Met uitzondering van de eerste slag in Sans Atout, Die levert u 40 matchpunten op.</p>								
3	<p>De tegenpartij gaat in 3 Sans Atout, 1 down en ze zijn niet kwetsbaar. Hoeveel matchpunten zijn dat dan voor ons?</p>	<p><input checked="" type="checkbox"/> 50</p> <p>1 down, niet kwetsbaar levert ons 50 matchpunten op. U ziet het wel vaker dat bijvoorbeeld 2  in noord-zuid zijn gemaakt (+110 voor NZ) en dat oost-west 1 down gaan in 3  (+50 voor NZ)</p>								
4	<p>In de eerste ronde bij het laatste spel heeft noord 14 kaarten en west 12. Mag nu de arbiter geroepen worden?</p>	<p><input checked="" type="checkbox"/> Ja</p> <p>Gebeurt er, wanneer ook, iets onreglementair aan een tafel, roepen wij altijd de arbitrage, Wel netjes en rustig.</p>								
5	<p>Na een opening van 1 , door de tegenpartij, biedt mijn partner 2 . Wat betekent dat bod?</p>	<p><input checked="" type="checkbox"/> Opening met een 6-kaart </p> <p>Zou hij dit niet hebben, dan komt er een normaal volgbod van 1 . Het volgbod met sprong, is altijd een opening met 6-kaart.</p>								

6	<table border="1" data-bbox="260 286 625 465"> <tr> <td></td> <td>VB107</td> </tr> <tr> <td></td> <td>AH863</td> </tr> <tr> <td></td> <td>AV</td> </tr> <tr> <td></td> <td>109</td> </tr> </table> <p>Waar opent u deze 16 punter mee?</p>		VB107		AH863		AV		109	<input checked="" type="checkbox"/> 1  <p>Het handje ziet er mooi uit, maar u heeft een 5-kaart . Daarom kan u niet 1 Sans Atout openen.</p>
	VB107									
	AH863									
	AV									
	109									
7	<p>Na een 1  opening, biedt mijn partner 1  bij. Hoeveel  heeft hij minimaal?</p>	<input checked="" type="checkbox"/> 4 <p>Een 4-kaart als nieuwe kleur is biedbaar. Hij heeft dus minimaal een 4-kaart.</p>								
8	<p>Mag de dummy onder het spel de arbiter roepen?</p>	<input type="checkbox"/> Nee <p>Dat mag niet. Na het spel wel.</p>								
9	<p>Wat betekent een doublet, nadat de tegenpartij op 1 niveau in een kleur, heeft geopend?</p>	<input checked="" type="checkbox"/> Informatie doublet <p>Ik heb ook een opening.</p>								
10	<p>Mijn rechter buurman opent met 1 . Ik heb een 2-kaart . Een 4-kaart , Een 4-kaart  en een 3-kaart , met 10 punten. Wat ga ik doen?</p>	<input checked="" type="checkbox"/> pas <p>Om een doublet te leggen heeft u een opening nodig en om een volgbod te doen hebt u een 5-kaart nodig.</p>								
11	<p>Mijn partner opent 1 . Ik bied 1 . Nu biedt mijn partner 1 Sans Atout. Hoeveel punten heeft hij maximaal?</p>	<input checked="" type="checkbox"/> 15 <p>Kunt u zich voorstellen, dat hij een 5-kaart  een 4-kaart , een 2-kaart  en  heeft?</p>								

12	<p>Ik heb een 3-kaart ♠ . En een 4-kaart ♥ . Een 4-kaart ♦ . En een 2-kaart ♣ . Maar ook 19 punten. Hoe open ik deze hand?</p>	<p>☒ 1 ♦</p> <p>Om met 2 Sans Atout te openen, heeft u 1 punt te weinig. En ♦ is de laagste van twee 4-kaarten.</p>
----	---	---

13	<p>Zuid is leider in 3 Sans Atout. West komt uit met ♠ aas. In de dummy liggen 12 punten. Maar hoeveel punten heeft oost maximaal?</p>	<p>☒ 8</p> <p>Ook hier. Verzamel alleen de informatie die u nodig heeft. Voor een manche in Sans Atout zijn 25 punten nodig. West start met ♠ aas en heeft aannemelijk ook ♠ heer. Dat zijn 7 punten, Dus oost kan maximaal 8 punten hebben.</p>
----	---	--

14	<p>In een 3 Sans Atout komt de tegenstander uit met ♠ boer. Wat weet ik nu?</p>	<p>☒ Hij heeft ♠ 10</p> <p>Dat is duidelijk. Start ik met een honneur, dan heb ik de onderliggende kaart ook.</p>
----	--	---

15	<table border="1" style="margin-bottom: 10px;"> <tr> <td style="text-align: center;">♠</td> <td>H43</td> </tr> <tr> <td style="text-align: center;">♥</td> <td>AVB102</td> </tr> <tr> <td style="text-align: center;">♦</td> <td>B109</td> </tr> <tr> <td style="text-align: center;">♣</td> <td>32</td> </tr> </table> <p>Mijn partner opent met 1 ♠ . Rechts van mij wordt gepast. Wat bied ik?</p>	♠	H43	♥	AVB102	♦	B109	♣	32	<p>☒ 4 ♠</p> <p>Wij hebben een fit in de ♠ . Dan heb ik 11 punten en voor de dubelton ♣ tel ik een puntje extra. Nu heb ik een opening. Opening + opening = Manche.</p>
♠	H43									
♥	AVB102									
♦	B109									
♣	32									

16	Hoeveel kaarten van één kleur moet ik hebben om een preëemptieve opening op 3 niveau te doen?	<input checked="" type="checkbox"/> 7 Met een 6-kaart open ik een zwakke 2. Zou ik een 8-kaart hebben, dan zou ik op 4 niveau openen. Wel eerst de hand naast de regel van 2 en 3 leggen. Zo zou het kunnen dat ik met een 7-kaart een zwakke 2 open en met een 8-kaart toch op 3 niveau open.								
17	Ik heb 21 punten met 4-kaart ♠, 3-kaart ♥, 3-kaart ♦ en een 3-kaart ♣. Waar open ik mee?	<input checked="" type="checkbox"/> 2 Sans Atout Wat een mooie Sans Atout verdeling. En het punten aantal klopt ook.								
18	Vink de preëemptieve openingen aan.	<input checked="" type="checkbox"/> 2 ♠ <input checked="" type="checkbox"/> 3 ♦ <input checked="" type="checkbox"/> 4 ♥ Dit zijn ze. De zwakke 2. De preëemptieve 3 en de preëemptieve 4 openingen. Allemaal bedoeld om het de tegenpartij moeilijk te maken met bieden.								
19	<table border="1" data-bbox="272 1352 636 1532"> <tr> <td>♠</td> <td>H94</td> </tr> <tr> <td>♥</td> <td>H10543</td> </tr> <tr> <td>♦</td> <td>10965</td> </tr> <tr> <td>♣</td> <td>3</td> </tr> </table> De tegenpartij heeft 3 Sans Atout geboden. Waar komt u mee uit?	♠	H94	♥	H10543	♦	10965	♣	3	<input checked="" type="checkbox"/> ♥ 4 Als er slagen te maken zijn, dan is dat in mijn langste kleur. En ik start altijd met de 4 ^e van boven.
♠	H94									
♥	H10543									
♦	10965									
♣	3									
20	Waar is de Stayman conventie voor bedoeld?	<input checked="" type="checkbox"/> Kijken of wij een fit in de hoge kleuren hebben Het staat helemaal niet vast of er een manche gespeeld gaat worden. Dat zoeken wij uit met behulp van de Stayman conventie.								

