



Bridge Test 10 voor beginners

De Antwoorden

Auteur: Thijs Op het Roodt
© Bridge Office 2024

1	<p>Onze tegenstanders gaan in 3 Sans Atout, 2 gedoubleerd, down. Zij zijn niet kwetsbaar. Hoeveel MP levert dat ons op?</p>	<input checked="" type="checkbox"/> 300
---	-------------------------------------------------------------------------------------------------------------------------------------------------------	-----------------------------------------

Niet kwetsbaar is:
 1 down gedoubleerd -100
 2 down gedoubleerd -300
 3 down gedoubleerd -500
 4 down gedoubleerd -800

2	<p>Ik open met 1 Sans Atout. Mijn partner biedt 2 . Hoeveel punten heeft hij minimaal?</p>	<input checked="" type="checkbox"/> 0 (nul)
---	-----------------------------------------------------------------------------------------------------------------------	---------------------------------------------

Mijn partner biedt Jacoby.
 En dat mag je met 0 (nul) punten doen.

3	<p>Ik heb HV65432 en verder geen punt in handen. Wij zijn niet kwetsbaar. Wat ga ik doen?</p>	<input checked="" type="checkbox"/> 2
---	-------------------------------------------------------------------------------------------------------------	---------------------------------------

Leg de hand langs de regel van 2 en 3.
 Normaal zijn na 3 keer troef spelen de troeven bij de tegen partij op. Van die 3 keer spelen, maakt u 1 slag. U houdt dan nog 4 troeven over. U maakt dus 5 slagen. U opent met een zwakke 2 .

4	<table border="1" style="margin-bottom: 10px;"> <tr><td></td><td>HV98</td></tr> <tr><td></td><td>A32</td></tr> <tr><td></td><td>HB43</td></tr> <tr><td></td><td>B10</td></tr> </table> <p>Zuid opent met 1 . Wij zijn kwetsbaar. Wat doe ik met deze hand?</p>		HV98		A32		HB43		B10	<input checked="" type="checkbox"/> Leg Doublet
	HV98									
	A32									
	HB43									
	B10									

Wanneer u een volgbod geeft, dan moet dat minimaal een 5-kaart zijn in de geboden kleur.
 Daarom legt u een doublet.

5	<table border="1" style="margin-bottom: 10px;"> <tr><td></td><td>B1098</td></tr> <tr><td></td><td>103</td></tr> <tr><td></td><td>HB43</td></tr> <tr><td></td><td>B104</td></tr> </table> <p>Tegen 3 Sans Atout start mijn partner oost met 2. Zuid speelt 3. Welke speel ik bij?</p>		B1098		103		HB43		B104	<input checked="" type="checkbox"/> 10
	B1098									
	103									
	HB43									
	B104									

Wanneer u boer bijspeelt, dan kan uw partner nooit weten dat u 10 hebt.
 Speelt u 10 bij en ziet uw partner dat de leider deze overneemt, dan zal hij zich afvragen, waarom de leider niet met boer neemt.
 Gratis informatie.

6	♠	B1098				
	♥	103				
	♦	AH108				
	♣	B104				
				♠		
				♥		
			♦	B754		
			♣			

Partner oost start met ♦ 3.
Hoeveel ♦ slagen maken wij minimaal?

☒ 4

Wanneer u er vanuit gaat dat uw partner met zijn langste kleur uitkomt, dan kan noord maximaal 1 ♦ hebben. Start uw partner met de 4^e van boven, dan kan noord alleen maar ♦ 2 hebben. Wordt al leuker die uitkomst. Maar houd er wel rekening mee, dat wanneer uw partner een 5-kaart ♦ heeft, dat u hem niet blokkeert.

7	Wij hebben 2 Sans Atout+2 gemaakt. Hoeveel MP levert ons dat op?	☒ 180 $40+(3 \times 30)=130$ $130+50=180$
---	------------------------------------------------------------------	-------------------------------------------------

8	Ik mag starten tegen een 3 Sans Atout van zuid. Mijn partner heeft ♠ tussen geboden. Ik ga dus starten met ♠. Mijn ♠ bezit is: V1082 Met welke ♠ start ik?	☒ ♠ 2 Je hoort heel vaak, dat je moet starten met de hoogste van de kleur die partner geboden heeft. Spijt me. Maar dat is niet waar. Door hier met ♠ 2 te starten, vertel je jouw partner dat je een plaatje hebt en je houdt aan beide zijden een stopper in de ♠.
---	------------------------------------------------------------------------------------------------------------------------------------------------------------	-------------------------------------------------------------------------------------------------------------------------------------------------------------------------------------------------------------------------------------------------------------------------

9	Na mijn 1♥ opening, biedt mijn partner 4♥. Hoeveel punten heeft hij minimaal?	☒ 12 Om voldoende punten te hebben voor een manche in de hoge kleuren, hebben we beiden een opening nodig.
---	-------------------------------------------------------------------------------	---------------------------------------------------------------------------------------------------------------

10	♠ H1098
	♥ 32
	♦ AB10
	♣ AB104

Zuid opent met 1♥. Wij zijn niet kwetsbaar. Wat doe ik met deze hand?

Leg een Doublet

Ik heb een opening en kan iedere andere kleur verdragen. Wat ik vertel is. Dat ik geen 5-kaart heb. Anders had ik een volgebod gegeven.

11	♠ AV86	♠ B432
----	--------	--------

Ik speel 3 Sans Atout en ben in oost aan slag.
Welke ♠ kan ik het beste spelen?

♠ 2

Heeft zuid ♠ heer, dan speelt hij die om in west aas eruit te spelen. West maakt dan ♠ vrouw nog wel, maar geeft dan minimaal 1 ♠ af aan ♠ 10. En misschien aan ♠ 9 nog een slag.

12	♠ H92
----	-------

Tegen 3 Sans Atout van noord, komt oost uit met ♠ 3. Zuid speelt ♠ 4 bij. Welke ♠ moet ik bijspelen?

♠ Heer

De derde man doet wat hij kan.

13

Ik open met 1♦. Noord past en mijn partner oost biedt 3♦.

Hoeveel punten zouden Noord-Zuid nu samen kunnen hebben?

18





Een opening van 1 in een kleur zijn minimaal 12 punten. Een sprong antwoord belooft 10 punten. Dus kunnen Noord-Zuid samen, 18 punten hebben.

14	♠ AH2
	♥ 982
	♦ V86
	♣ B432


Ik mag starten tegen een 4♥. Waar kan ik het beste mee uitkomen?

♠ Aas




Op de eerste plaats belooft u daarmee ook ♠ heer. En misschien nog belangrijker. U heeft, zoals dat noemen, een kijk aas. U blijft aan slag en heeft voor dat u verder gaat de dummy gezien.

15	 AHV2
	 HB82
	 VB86
	 3

Ik heb 16 punten.
Hoe open ik deze hand?




1 





Open met de laagste van de drie 4-kaarten. U kunt dadelijk iedere kleur bieden. Met uw 16 punten mag u reverse bieden.


16	 AH92
	 H982
	 VB86
	 3

Ik heb 13 punten.
Hoe open ik deze hand?

1 





Nu heeft u maar 13 punten en kunt, wanneer uw partner geen  biedt, zelf de  niet bieden. Want dat is reverse. Biedt uw partner 2 , dan kunt u wel nog 2  bieden.


17	 AH9
	 H9872
	 VB8
	 93


Zuid opent met 1  .
Wat ga ik doen met deze hand?

Ik Pas

Ik ben toch eens benieuwt, waar de bieding eindigt. Ik bemoei mij nergens mee. Ik volg de bieding aandachtig.

18	 AH2
	 982
	 V86
	 B432

Mijn partner opent met 1  .
Zuid past. Wat ga ik doen?

3 

Met 10 punten mag ik op 3 niveau bieden en dat doe ik dus ook.

19	♠ AHV		♠ B7432
	♥ 982		♥ HV2
	♦ V86		♦ HB2
	♣ B4		♣ A10

Als oost moet ik 3 Sans Atout maken.
Maar hoeveel slagen maak ik zeker?

✘ 6

De vraag is, hoeveel slagen ik zeker maak. En dat zijn 5 ♠ slagen en 1 ♣ slag.
Dat er in de rode kleuren ook nog een slag binnen komt, dat geloof ik, maar zeker is dat nooit in bridge.

20	♠ AHV
	♥ 982
	♦ V86
	♣ B4

Zuid moet 4 ♥ gaan spelen.
Hoeveel punten heeft mijn partner oost maximaal?

✘ 3

Om een manche in een hoge kleur te spelen, hebben ze 25 punten nodig. Ik heb 12 punten. De overige 3, heeft mijn partner. Mits noord-zuid samen niet meer dan 25 punten hebben.